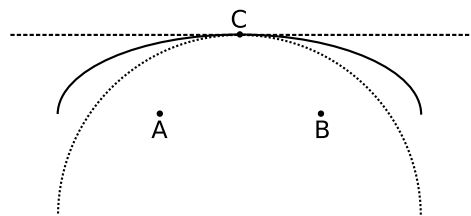


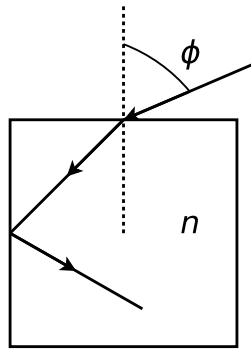
DESCRIPCIÓN GEOMÉTRICA DE MOVIMIENTOS ONDULATORIOS

Fermat, Snell

1.
 - a) Si un rayo parte del punto $A = (0, 1, 0)$, se refleja en el espejo plano $(x, 0, z)$ y pasa por el punto $B = (4, 3, 0)$, averigüe en qué punto sobre el plano del espejo se refleja y los ángulos de incidencia y reflexión. Aplicar Fermat e interpretar físicamente las soluciones.
 - b) Un rayo directo entre A y B recorre un menor camino óptico que el hallado en (a), ¿es esto contradictorio?
2. A partir del principio de Fermat deducir la ley de Snell para la refracción de la luz entre dos medios de índices n_1 y n_2 , separados por una superficie plana.
3. Sea un espejo elíptico de focos A y B . En A hay una fuente puntual. Los espejos esférico y plano dibujados son tangentes al elíptico en C . Sabiendo que el camino óptico de un rayo que sale de A , se refleja en C y luego pasa por B , es estacionario en la elipse, obtenga cualitativamente si el camino óptico es máximo, mínimo o estacionario cuando se refleja en cada uno de los espejos.



4.
 - a) Un rayo de luz llega a la interfase aire-líquido con un ángulo de 55° . Se observa que el rayo refractado se transmite a 40° . ¿Cuál es el índice de refracción del líquido?
 - b) Un haz de luz incide desde el aire ($n = 1$) sobre una lámina de vidrio de índice de refracción n_v desconocido y espesor d . Al otro lado del vidrio hay agua de índice de refracción 1,33. El ángulo de incidencia en la interfase aire-vidrio es 30° . Calcule el ángulo que el rayo refractado forma con la normal a la superficie en el agua.
 - c) Un rayo de luz, que se propaga en un medio cuyo índice de refracción es $n = 2$ incide formando un ángulo de 30° respecto a la normal a la superficie de separación, que la separa de otro medio de índice 1,5. Calcule el ángulo que forma el rayo transmitido con la normal a la superficie. Calcule el ángulo mínimo con el que debería incidir el rayo para que no se transmita nada.
5.
 - a) Demuestre que un rayo que incide sobre una lámina de caras paralelas, inmersa en un medio único, no se desvía al atravesarla. Calcule el desplazamiento lateral de dicho rayo, en términos de su espesor d y de su índice de refracción n .
 - b) Demuestre que el rayo que se refleja en la primera cara y el que emerge luego de reflejarse en la segunda son paralelos.
 - c) Si el medio exterior es único, ¿existe algún ángulo de incidencia tal que produzca reflexión total en la cara inferior?
6. Un rayo incide con ángulo ϕ sobre la superficie horizontal de un cubo de material transparente, de índice n , inmerso en aire.



- a) ¿Para qué valores de ϕ hay reflexión total en la cara vertical?
- b) Si $\phi = 60^\circ$, ¿cuál es el máximo n para que no haya reflexión total en la cara vertical? ¿Se puede reflejar totalmente en la cara superior?

Prismas

7.
 - a) Calcule analíticamente el ángulo de desviación mínima del prisma. Justifique por qué este valor es único. Haga un gráfico cualitativo de la desviación como función del ángulo de incidencia.
 - b) Calcule la desviación mínima para prismas delgados, en función de los datos constructivos.
 - c) Si el prisma es delgado y el ángulo de incidencia es pequeño, calcule la desviación.
8. Los índices de refracción de cierta clase de vidrio para el rojo y el violeta valen: 1,51 y 1,53; respectivamente. Halle los ángulos límites de reflexión total para rayos que incidan en la superficie de separación vidrio-aire. ¿Qué ocurre si un rayo de luz blanca incide formando un ángulo de 41° sobre dicha superficie?
9.
 - a) En un vidrio óptico común se propaga un haz de luz blanca, ¿qué componente viaja más rápido: la roja o la violeta?
 - b) ¿Para cuál de ambos colores será mayor la desviación en un prisma? ¿Qué puede decir del ángulo de desviación mínima? Justifique sus respuestas.
10. Dado un prisma de Crown de ángulo $\alpha = 4^\circ$ calcular, para las líneas F, D y C, las desviaciones de rayos que inciden casi perpendicularmente. Los respectivos índices son: $n_F = 1,513$; $n_D = 1,508$ y $n_C = 1,504$.

Dioptras

Dioptras Planas

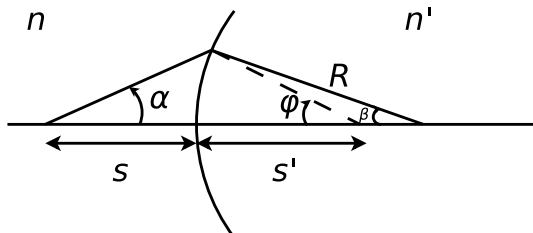
11.
 - a) Una moneda se encuentra en el fondo de un vaso que contiene agua hasta una altura de 5 cm ($n_{agua} = 1,33$). Un observador la mira desde arriba, ¿a qué profundidad la ve?
 - b) El ojo de un buzo se encuentra a una profundidad de 4m en un pozo cilíndrico de 3m de radio. El ojo del buzo está ubicado en el eje del pozo. El pozo se encuentra lleno de agua ($n_{agua} = 1,3$). Determine cuál es la máxima distancia (x) a la que puede colocarse su ayudante, (de 2m de altura) ubicado en tierra para que el buzo lo vea.
12.
 - a) Demostrar que un haz homocéntrico (haz luminosos en el cual todos los rayos pasan por un mismo punto) de pequeña abertura que incide casi normal sobre una dioptra plana, da lugar a otro haz homocéntrico. Considere los casos de objetos reales y virtuales.
 - b) Estimar la máxima abertura de un haz homocéntrico, para que la posición de la imagen, formada por una única superficie plana, quede determinada con un error del 2%.
 - c) Usando los resultados anteriores demuestre que un haz homocéntrico de pequeña abertura, al atravesar una lámina de caras paralelas, da lugar, en primera aproximación, a otro haz homocéntrico. Halle la posición de las sucesivas imágenes.

Dioptras Esféricas

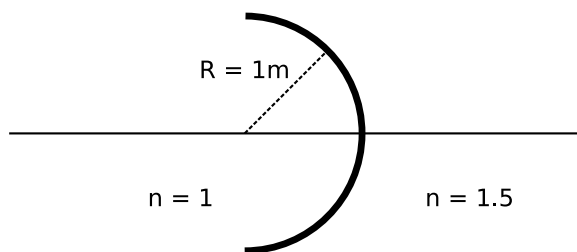
13. a) Haciendo uso de la figura, de la ley de Snell y del hecho de que en la aproximación paraxial $\alpha \approx \sin \alpha \approx \tan \alpha$ (lo mismo pasa con β y φ) obtenga la ecuación de las dioptras esféricas, que establece lo siguiente:

$$\frac{n'}{s'} \mp \frac{n}{s} = \frac{(n' - n)}{R}$$

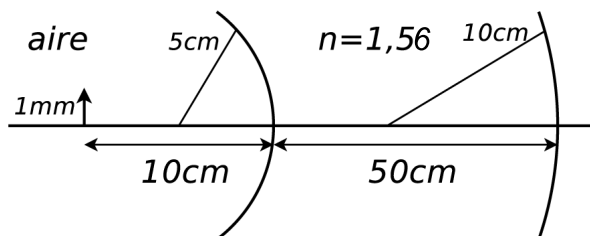
Discuta el doble signo, asociándolo con la convención de signos que se utilice.



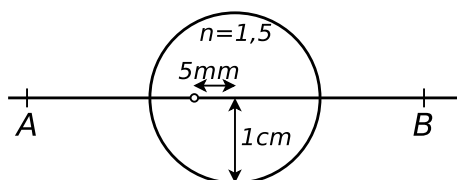
- b) ¿Cuándo una dioptra esférica es convergente/divergente? Realice los gráficos s' vs s para ambos casos y analice a partir de él para qué posiciones de los objetos reales las imágenes son reales o virtuales, directas o invertidas y lo mismo para objetos virtuales
- c) ¿Pueden ser iguales las dos distancias focales de una dioptra?. Justifique su respuesta.
- d) En una dioptra esférica como la de la figura, ¿dónde debe colocarse un objeto para que la imagen sea directa?. Justifique con los gráficos s vs s' del punto anterior su respuesta. ¿Cómo cambia su respuesta si se invierte la relación de índices? Realice el trazado de rayos para ambos casos.



14. Una barra de material plástico transparente de la forma y dimensiones de la figura (el índice de refracción es 1,56), es iluminada por una rendija de 1mm. Determine si las dioptras son convergentes o divergentes y las distancias focales de las mismas. Calcule la posición y tamaño de la imagen formada por cada una de las dioptras, y especificar si son reales o virtuales. Hacer un trazado de rayos a escala.

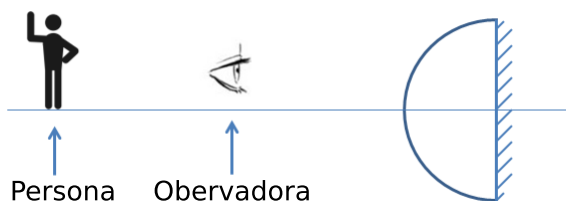


15. La esfera de vidrio de la figura, de 1cm de diámetro, contiene una pequeña burbuja de aire desplazada 0,5 cm de su centro. Hallar la posición y el aumento de la burbuja cuando se la observa desde A y cuando se la observa desde B.

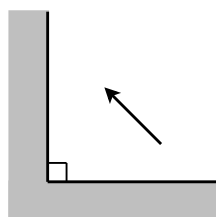


Espejos

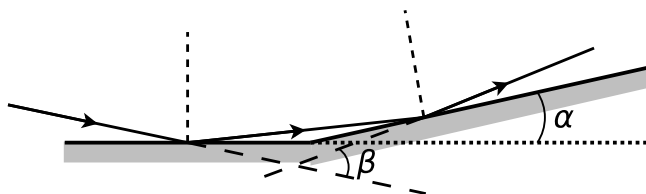
16. a) Demuestre que la imagen dada por un espejo plano de una fuente puntual es, sin ninguna aproximación, otra fuente puntual, ubicada simétricamente respecto del plano del espejo. Analice los casos que corresponden a objetos reales o virtuales.
- b) Calcule el tamaño mínimo de un espejo plano vertical para que una persona de pie, cuya altura es de $1,8m$ y cuyos ojos están a $1,6m$ del piso, se vea completo. ¿Es importante la distancia objeto-espejo?
17. Una observadora mira hacia la semiesfera espejada de la figura. El radio de la semiesfera es $5m$. A qué distancia y de qué tamaño verá a la persona de $1,5m$ de altura que se encuentra a $1m$ detrás de ella. La observadora está a $1m$ de la semiesfera. El índice del vidrio es $1,5$.



18. Haga un esquema de un diagrama de rayos localizando las imágenes de la flecha que se muestra en la figura. Para un punto de la flecha dibuje una porción del frente de ondas emergente y los correspondientes frentes reflejados.



19. Dos espejos planos forman un ángulo α como lo indica la figura.

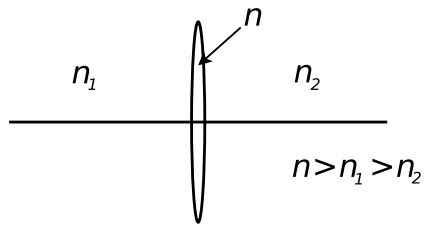


- a) Un rayo de luz contenido en un plano perpendicular a la intersección de los espejos incide sobre uno de ellos, se refleja e incide en el otro (ver figura). Calcule el ángulo que forman los rayos incidente y emergente.
- b) Suponga la misma geometría que en (a) pero ahora iluminada por una fuente puntual, demuestre que las imágenes se encuentran sobre una circunferencia con centro en el vértice de los espejos. En el caso en que la fuente está ubicada de tal modo que sólo se producen dos imágenes, y que el ángulo es muy pequeño, calcule la distancia entre ellas (espejos de Fresnel).
20. Considere la ecuación de espejos esféricos
- a) ¿Cómo se modifica la distancia focal de un espejo esférico si se lo sumerge en agua?
- b) Un espejo esférico cóncavo produce una imagen cuyo tamaño es el doble del tamaño del objeto, siendo la distancia objeto-imagen de 15 cm . Calcule la distancia focal del espejo.

21. Una esfera maciza de radio R e índice de refracción 1,5 ha sido espejada en una mitad de su superficie. Se coloca un objeto sobre el eje de la esfera a distancia $2R$ del vértice de la semiesfera no espejada. Hallar:
- La imagen final, en forma analítica, luego de todas las refracciones y reflexiones que hayan tenido lugar.
 - El aumento y las características de la imagen final.
 - Ídem (a) mediante trazado de rayos.
22. *a)* Al mirarse en la concavidad de una cuchara sopera esférica, una persona a 25cm de distancia ve su imagen reflejada con un aumento de $-0,064$. Calcule el radio de curvatura de la cuchara.
- b)* La nariz de un lector está a 20cm de un espejo esférico convexo de 100cm de radio, i) Diga sin hacer cálculos ni trazados de rayos, las características de la imagen entre qué posiciones estará ubicada ii) Calcule la posición de su imagen iii) Verifique analíticamente las características de la misma. iv) Haga el trazado de rayos a escala.

Lente delgada

23. *a)* A partir de la ecuación de la dioptra, considerando dos dioptras esféricas tal que la separación entre ellas sea mucho menor que las restantes longitudes involucradas, deduzca la ecuación para las lentes delgadas.
- b)* Analice de qué depende la convergencia o divergencia de una lente.
- c)* Grafique s' vs s para lentes convergentes y divergentes, analice el aumento y la posición de los objetos (en particular objeto en el foco y objeto en infinito) y de las imágenes.
- d)* ¿Pueden ser iguales (en módulo) los focos de una lente?
- e)* Demuestre que la menor distancia objeto–imagen es $4f$, si la lente está inmersa en un único medio.
- f)* Dibuje los frentes de onda incidente, refractado por la primer dioptra y refractado por la segunda.
24. *a)* Determine la distancia focal de una lente plano–cóncava ($n = 1,5$) cuyo radio de curvatura es 10 cm . Determine su potencia en dioptrías.
- b)* Se tiene una lente biconvexa con $R_1 = R_2 = 10\text{ cm}$, construida con un vidrio de índice 1,5. Se la usa con aire a un lado de la misma y con un líquido de índice 1,7 al otro lado. ¿Cuánto valen las distancias focales? ¿Es convergente o divergente? Responda las mismas preguntas si: i) está inmersa sólo en aire, ii) está inmersa en el medio de índice 1,7.
25. A simple vista la luna subtende un ángulo de $31'08''$. ¿Cuál es el tamaño de la imagen de la luna, a través de una lente convergente de distancia focal 1 m ? (Nota: estime o busque la distancia luna-tierra)
26. *a)* Se coloca un objeto a 18 cm de una pantalla, ¿en qué puntos entre la pantalla y el objeto se puede colocar una lente delgada convergente de distancia focal 4 cm , para que la imagen del objeto esté sobre la pantalla? ¿Qué diferencia hay entre ubicarla en una u otra posición?
- b)* Un objeto se halla a distancia fija de la pantalla. Una lente delgada convergente, de distancia focal 16 cm , produce imagen nítida sobre la pantalla cuando se encuentra en dos posiciones que distan entre sí 60 cm . ¿Cuál es la distancia objeto–pantalla?
27. Halle la distancia focal de una lente sumergida en agua, sabiendo que su distancia focal en el aire es de 20 cm . El índice de refracción del vidrio de la lente es 1,6.
28. Se tiene una lente delgada en las condiciones que presenta la figura. Indique en qué punto del eje óptico debe incidir un rayo para que atraviese la lente sin desviarse. Expresar el resultado en función de la distancia focal objeto y de los índices de refracción.



29. Demostrar que:

- a) Si un sistema óptico forma imágenes geoméricamente perfectas, todos los rayos que conectan puntos conjugados recorren el mismo camino óptico. (Utilice el principio de Fermat).
 - b) Si una lente delgada forma imágenes perfectas sólo en la aproximación paraxial, la diferencia de caminos ópticos entre dos rayos cualesquiera que conectan puntos conjugados y que en todo punto disten menos que y , es de orden superior a y^2 .
30. a) Determine el radio de curvatura de una lupa equiconvexa ($n = 1,5$) para que su aumento sea 10X. ¿Dónde se encuentra la imagen, y el objeto?
- b) Calcule el aumento de la lupa descrita en (a) cuando la imagen se encuentra a la distancia de visión clara (25cm). Discuta las ventajas y desventajas de esta opción.
31. Una lente delgada convergente, de distancia focal 30 cm, se coloca 20 cm a la izquierda de otra lente delgada divergente de distancia focal 50 cm. Para un objeto colocado a 40 cm a la izquierda de la primera lente determine la imagen final. ¿Cuál es el aumento? La imagen ¿es real o virtual, es directa o invertida?